

和差算1

目標時間

10分

名前

/4

- (1) たかしくんと妹は えんぴつを 2人あわせて 30 本持っています。たかしくんの方が妹より 6 本を多くえんぴつを持っています。

ゆうこさんと妹はそれぞれ えんぴつを 何本持っていますか。

図、式

答え

ゆうこ

妹

- (2) 2つの 数があります。 その2つの数をたすと 75 で、大きい数から 小さい数をひくと 15 です。

2つの数を 答えなさい。

図、式

答え

大きい数

小さい数

- (3) 花だんに バラとチューリップが あわせて 96 本あります。

バラはチューリップより 16 本多くあります。

バラとチューリップはそれぞれ何本ありますか。

図、式

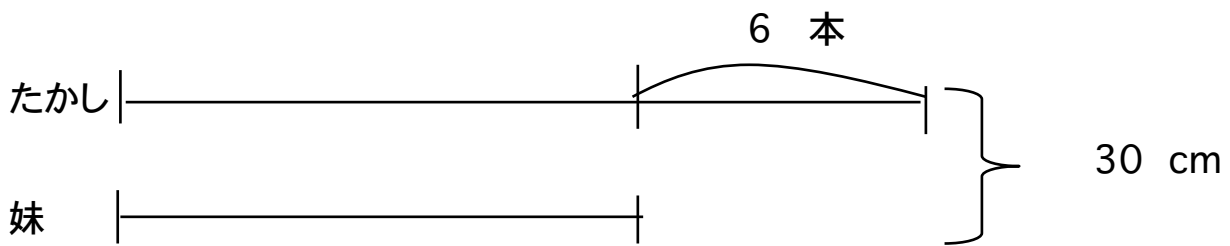
答え

バラ

チューリップ

答え

(1)



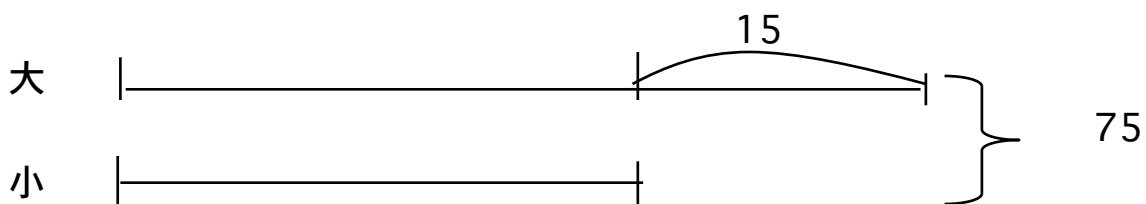
$$30 - 6 = 24 \quad 24 \div 2 = 12 \quad \leftarrow \text{妹}$$

$$12 + 6 = 18 \quad \leftarrow \text{たかし}$$

たかし 18 本

妹 12 本

(2)



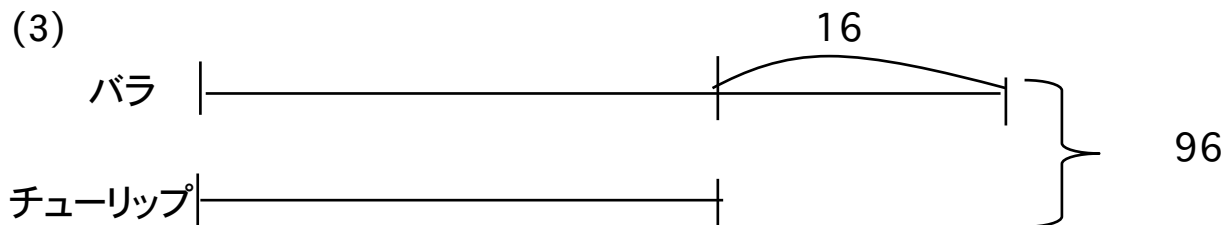
$$75 - 15 = 60 \quad 60 \div 2 = 30 \quad \leftarrow \text{小}$$

$$30 + 15 = 45 \quad \leftarrow \text{大}$$

大 45

小 30

(3)



$$96 - 16 = 80 \quad 80 \div 2 = 40 \quad \leftarrow \text{チューリップ}$$

$$40 + 16 = 56 \quad \leftarrow \text{バラ}$$

バラ 56 本

チューリップ 40 本