

集合算 1

目標時間

15分

NO. 1

名前

/4

1 あるクラス 28 人にアンケートをとったところ、算数が好きな人は 13 人、国語が好きな人は 15 人、国語も算数も好きな人は 6 人いました。このとき、次の間に答えなさい。

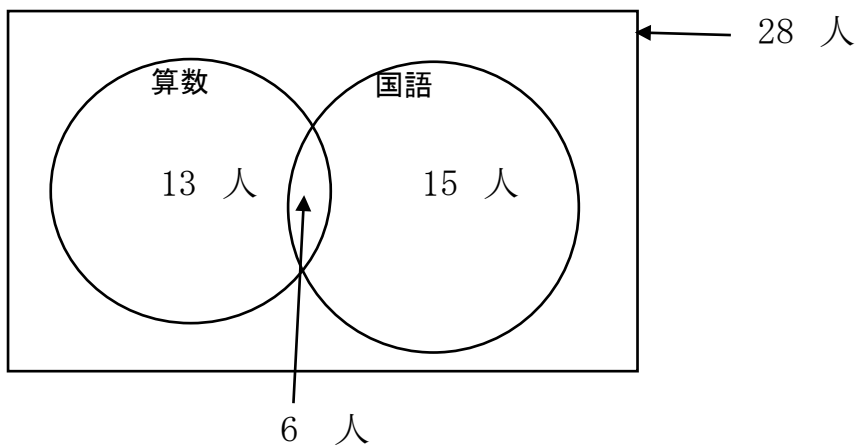
- ① 算数だけ好きな人は何人いますか。
- ② 算数も国語も好きでない人は何人いますか。

2 あるクラス 39 人のなかで、バスを使って通学している生徒は 12 人、自転車を使って通学している生徒は 19 人、どちらも使っていない生徒は 13 人います。このとき次の問いに答えなさい。


- ① バスと自転車の両方を使って通学している生徒は何人ですか。
- ② 自転車だけを使って通学している生徒は何人ですか。

解答

1

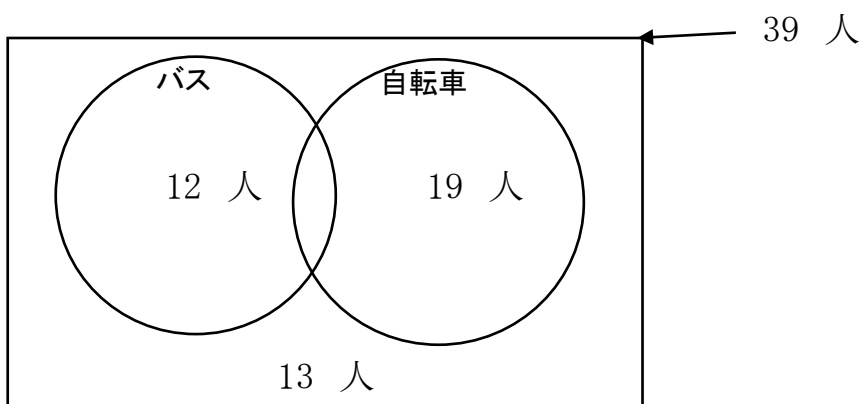


① $13 - 6 = 7$ 7 人

② $7 + 15 = 22$ ←  の中の数

$28 - 22 = 6$ 6 人

2



① $12 + 19 + 13 = 44$

$44 - 39 = 5$ 5 人

② $19 - 5 = 14$ 14 人