

## 並べ方 1

目標時間 10分

NO. 1

名前

/5

(1) 、、のカードがあります。

① 3枚のカードをならべて、3けたの整数を作ると、全部で何通りできますか。

② この中から2枚をならべて2けたの整数を作ると全部で何通りできますか。

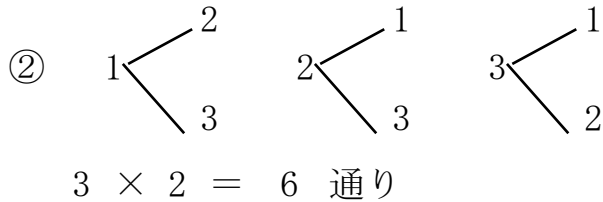
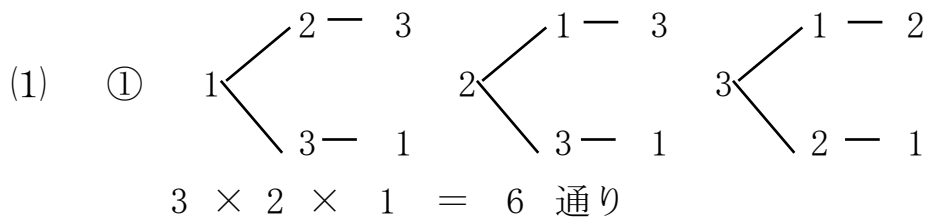
(2) 、、、の4枚のカードがあります。

① 3枚のカードをならべて、3けたの整数を作ると、全部で何通りできますか。

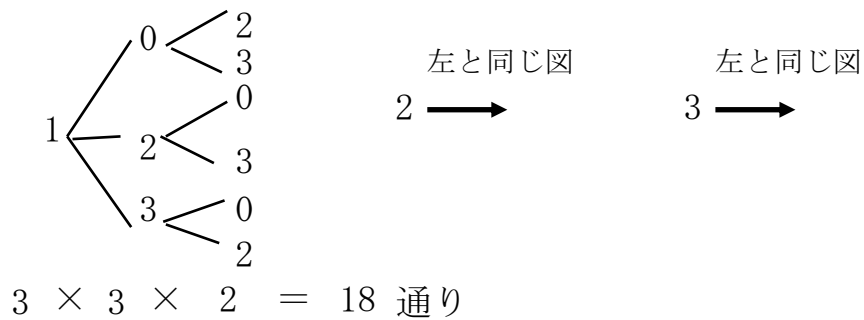
② ①のうち偶数は何通り出来ますか。

(3) 、、、の4枚のカードがあります。この中から3枚のカードを使って3けたの数を作るとき、奇数は何通りできますか。

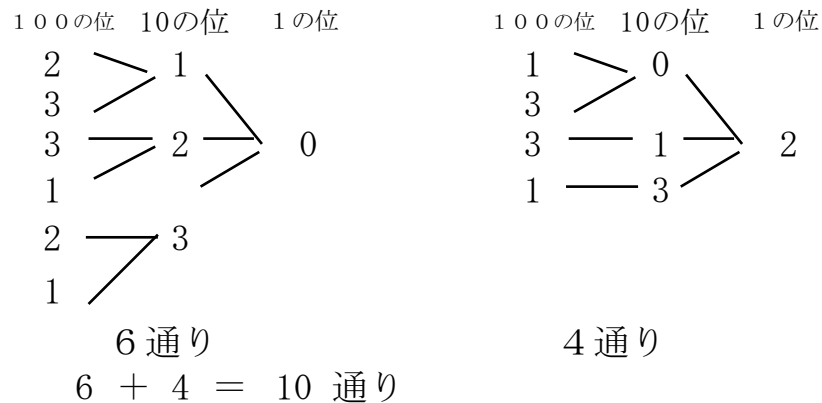
答え



(2) ① 百の位 十の位 一の位



② 偶数になるのは1の位が0、2のとき。



(3) 奇数になるのは1の位が1、3のとき。

