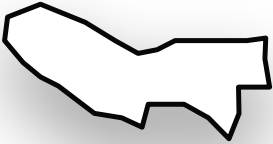


# 都道府県の形3

月 日

●次の都道府県名を答えなさい。（縮尺は同一ではありません。）

①



②



③



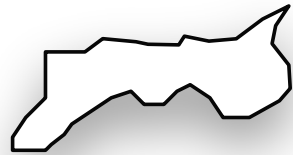
④



⑤



⑥



⑦



⑧



⑨



答え

①



東京都

②



群馬県

③



三重県

④



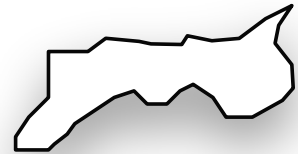
山口県

⑤



福井県

⑥



鳥取県

⑦



山梨県

⑧



京都府

⑨



大阪府