

立方体の展開図2

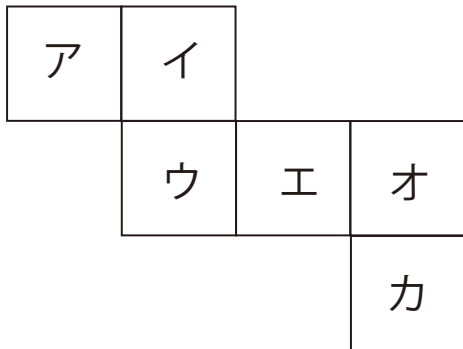
目標時間	7分
------	----

NO. 1

名前 _____

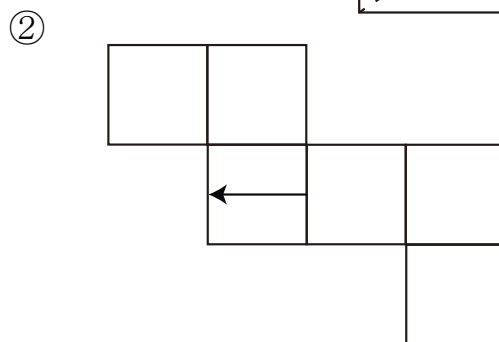
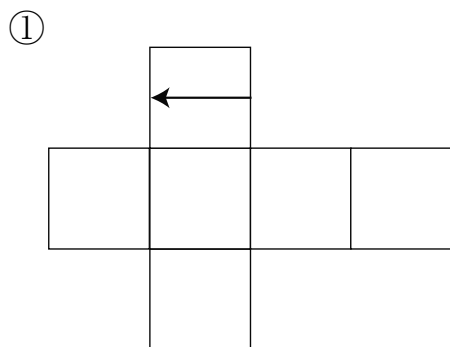
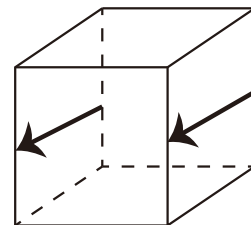
_____/5

1 下の展開図を組み立てます。このとき次の問いに答えなさい。



- ① ア と平行になる面を記号で答えなさい。
- ② ア と垂直になる面をすべて記号で答えなさい。
- ③ カ と平行になる面を記号で答えなさい。

2 右の図のように立方体の平行な面に矢印をかきいれました。
下の展開図にもう1つの矢印を書きなさい。



答え

1

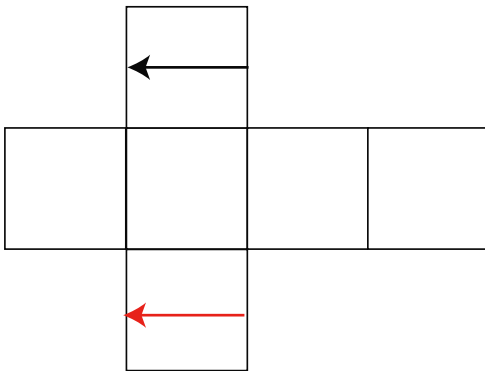
① エ

② イ ウ オ カ

③ イ

2

①



②

