

立方体の展開図2

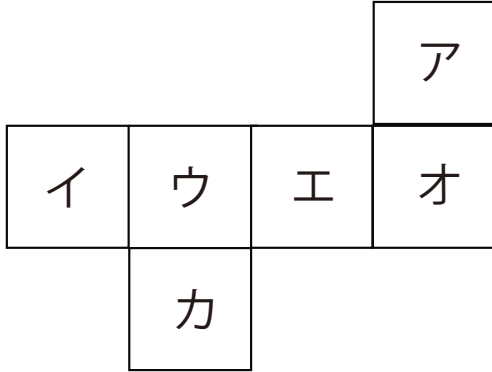
目標時間	7分
------	----

NO. 2

名前 _____

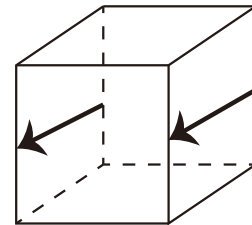
_____/5

1 下の展開図を組み立てます。このとき次の問いに答えなさい。



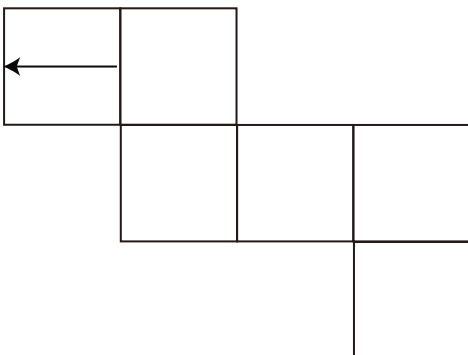
- ① ア と平行になる面を記号で答えなさい。
- ② ア と垂直になる面をすべて記号で答えなさい。
- ③ イ と平行になる面を記号で答えなさい。

2 右の図のように立方体の平行な面に矢印をかきいれました。

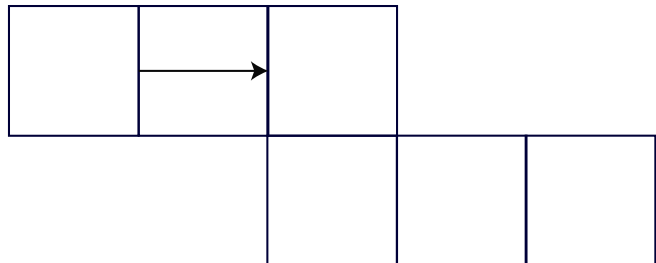


下の展開図にもう1つの矢印を書きなさい。

①



②



答え

1

- ① カ
- ② イ ウ エ オ
- ③ エ

2

- ①
- ②

