

立方体の展開図3

| | |
|------|----|
| 目標時間 | 7分 |
|------|----|

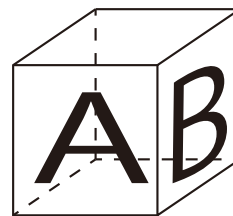
NO. 2

名前 _____

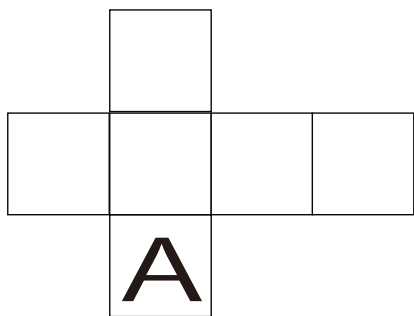
_____/5

1 右の図のように立方体の2つの面に文字をかきいれました。


下の展開図に残りの1つの文字を書きなさい。



①




②

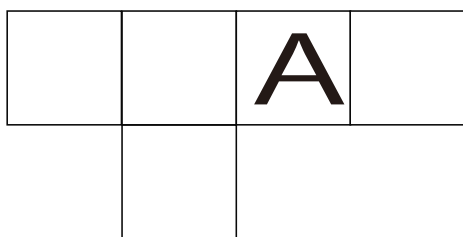


1 右の図のように立方体の3つの面に文字をかきいれました。

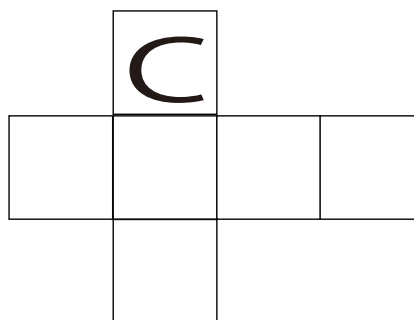
下の展開図に残りの2つの文字を書きなさい。




①



②




③



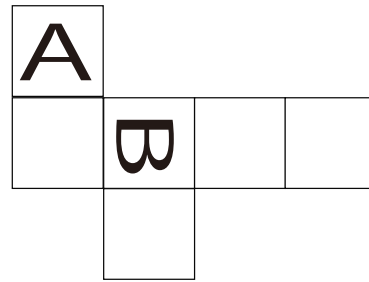
答え

1

①

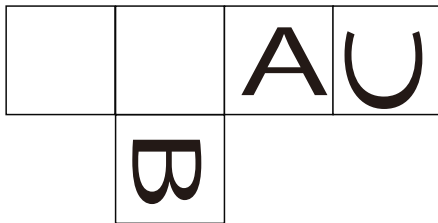


②

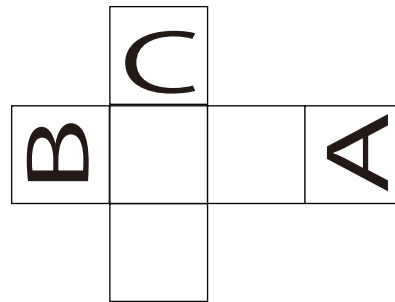


2

①



②



③

